







NOMBRE: _____

FECHA: _____

Escribe debajo de cada pieza el valor que le corresponde y realiza la suma total:

ALFIL  4	CABALLO  3	PEON  1	REINA  10	TORRE  5	REY  20
--	--	---	---	--	---

$$\begin{array}{ccccccc}
 \text{CABALLO} & + & \text{PEON} & + & \text{REINA} & = & 14 \\
 \text{3} & & \text{1} & & \text{10} & &
 \end{array}$$

$$\text{CABALLO} + \text{PEON} + \text{REINA} =$$

$$\text{TORRE} + \text{ALFIL} + \text{CABALLO} =$$

$$\text{PEON} + \text{REINA} + \text{TORRE} =$$

$$\text{PEON} + \text{REY} + \text{REINA} =$$

$$\text{REY} + \text{REINA} + \text{PEON} =$$

$$\text{TORRE} + \text{ALFIL} + \text{REY} =$$

$$\text{CABALLO} + \text{REY} + \text{REINA} =$$

$$\text{REINA} + \text{TORRE} + \text{ALFIL} =$$

$$\text{REY} + \text{REINA} + \text{PEON} =$$