







NOMBRE: _____

FECHA: _____

Escribe debajo de cada pieza el valor que le corresponde y realiza la suma total:

ALFIL	CABALLO	PEON	REINA	TORRE	REY
					
4	3	1	10	5	20

$$\begin{array}{ccccccc}
 \text{CABALLO} & + & \text{PEON} & + & \text{REINA} & = & 14 \\
 \text{3} & & \text{1} & & \text{10} & &
 \end{array}$$

$$\text{PEON} + \text{REINA} + \text{TORRE} =$$

$$\text{TORRE} + \text{ALFIL} + \text{CABALLO} =$$

$$\text{REY} + \text{REINA} + \text{PEON} =$$

$$\text{PEON} + \text{REY} + \text{REINA} =$$

$$\text{CABALLO} + \text{REY} + \text{REINA} =$$

$$\text{TORRE} + \text{ALFIL} + \text{REY} =$$

$$\text{REY} + \text{REINA} + \text{PEON} =$$

$$\text{REINA} + \text{TORRE} + \text{ALFIL} =$$

$$\text{PEON} + \text{REY} + \text{PEON} =$$

$$\text{CABALLO} + \text{PEON} + \text{REINA} =$$

$$\text{CABALLO} + \text{PEON} + \text{PEON} =$$