


NOMBRE: _____

FECHA: _____

1. Rodea con un círculo el **alfil blanco**.
2. Señala con flechas las **DIAGONALES** por donde pasa el **alfil blanco**
3. Rodea con un círculo las piezas que **captura** a su paso.
4. Indica la **posición** del alfil blanco (coordenada) _____

TABLERO 1




NOMBRE: _____

FECHA: _____

1. Rodea con un círculo el **alfil blanco**.
2. Señala con flechas las **DIAGONALES** por donde pasa el **alfil blanco**
3. Rodea con un círculo las piezas que **captura** a su paso.
4. Indica la **posición** del alfil blanco (coordenada) _____

TABLERO 2




NOMBRE: _____

FECHA: _____

1. Rodea con un círculo el **alfil blanco**.
2. Señala con flechas las **DIAGONALES** por donde pasa el **alfil blanco**
3. Rodea con un círculo las piezas que **captura** a su paso.
4. Indica la **posición** del alfil blanco (coordenada) _____

TABLERO 3



NOMBRE: _____

FECHA: _____

1. Rodea con un círculo el **alfil blanco**.
2. Señala con flechas las **DIAGONALES** por donde pasa el **alfil blanco**
3. Rodea con un círculo las piezas que **captura** a su paso.
4. Indica la **posición** del alfil blanco (coordenada) _____

TABLERO 4

