


NOMBRE: _____

FECHA: _____

1. Rodea con un círculo la **torre blanca**.
2. Señala con flechas las **FILAS O COLUMNAS** por donde puede moverse la **torre blanca**
3. Rodea con un círculo las piezas que **captura** a su paso.
4. Indica la **posición** de la torre blanca (coordenada) _____

TABLERO 1




NOMBRE: _____

FECHA: _____

1. Rodea con un círculo la **torre blanca**.
2. Señala con flechas las **FILAS O COLUMNAS** por donde puede moverse la **torre blanca**
3. Rodea con un círculo las piezas que **captura** a su paso.
4. Indica la **posición** de la torre blanca (coordenada) _____

TABLERO 2




NOMBRE: _____

FECHA: _____

1. Rodea con un círculo la **torre blanca**.
2. Señala con flechas las **FILAS O COLUMNAS** por donde puede moverse la **torre blanca**
3. Rodea con un círculo las piezas que **captura** a su paso.
4. Indica la **posición** de la torre blanca (coordenada) _____

TABLERO 3



NOMBRE: _____

FECHA: _____

1. Rodea con un círculo la **torre blanca**.
2. Señala con flechas las **FILAS O COLUMNAS** por donde puede moverse la **torre blanca**.
3. Rodea con un círculo las piezas que **captura** a su paso.
4. Indica la **posición** de la torre blanca (coordenada) _____

TABLERO 4

